





La struttura della Terra



“La struttura della terra”

Hai mai visto com'è fatta la Terra al suo interno?

Qui sono raffigurati i tre strati principali che la compongono



Inserisci il loro nome nella zona corretta e poi colorala a seconda del nome

- **Crosta** (marrone)
- **Nucleo** (giallo)
- **Mantello** (arancione)

Questi tre cerchi mostrano i tre strati della Terra. Ogni strato ha caratteristiche diverse

Crosta

Composizione.....

Spessore.....

Stato della materia.....

Mantello

Composizione.....

Spessore.....

Stato della materia.....

Nucleo

Composizione.....

Spessore.....

Stato della materia.....

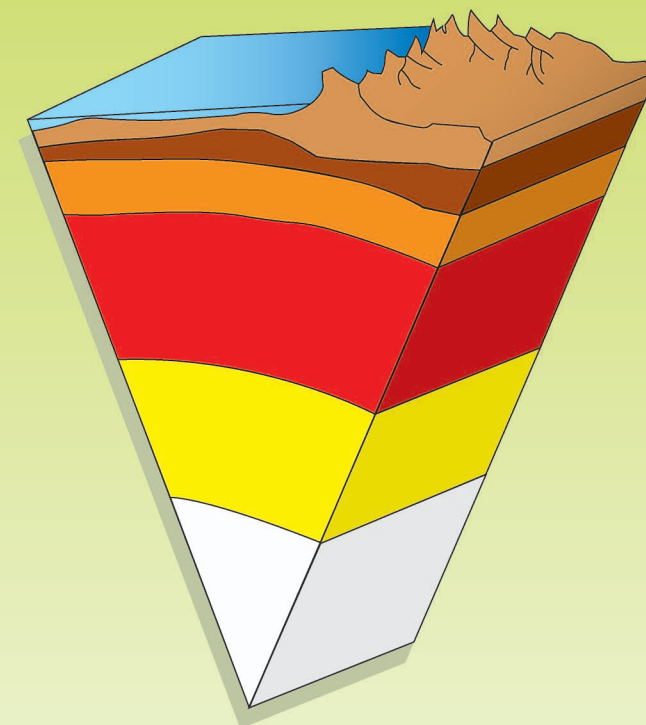
Scegli le parole dalla lista qui sotto per inserire le caratteristiche corrette negli spazi vuoti

- Composizione: rocciosa - metallica
- Spessore: spesso - molto spesso - sottile
- Stato della materia: liquido - solido
- Puoi usare la stessa parola più di una volta

Hai mai visto una sezione della Terra? Cerca di abbinare il nome allo strato corretto!

La sezione della Terra

Gli strati della Terra



- Nucleo interno
- Nucleo esterno
- Mantello superiore
- Crosta
- Crosta continentale
- Crosta oceanica
- Mantello inferiore

